

ОБЩЕСТВОЗНАНИЕ

Часть 1

1. Запишите слово, пропущенное в таблице.

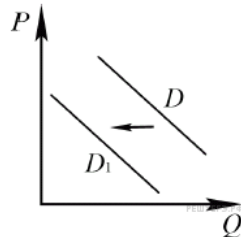
Характеристика элементов нормы права

ЭЛЕМЕНТ НОРМЫ ПРАВА	ХАРАКТЕРИСТИКА НОРМЫ ПРАВА
Гипотеза	Указывает на круг лиц, которым адресована норма, а также на условия её реализации.
...	Определяет правовые последствия несоблюдения требований нормы права.

2. В приведённом ниже ряду найдите понятие, которое является обобщающим для всех остальных представленных понятий. Запишите это слово.

Популярное ток-шоу; рекламный плакат; массовая культура; комедийный сериал; музыкальный видеоклип.

3. На рисунке отражено изменение спроса на инвентарь для зимних видов спорта (беговые лыжи, коньки, сноуборды и проч.): линия спроса D переместилась в новое положение — D_1 . (P — цена; Q — количество.)



Это перемещение может быть связано, прежде всего, с

- 1) популяризацией зимних видов спорта
- 2) открытием новых лыжных центров
- 3) началом предолимпийского сезона
- 4) наступлением весны

Выберите верные ответы и запишите цифры, под которыми они указаны.

4. Выберите верные суждения о мировоззрении человека и запишите цифры, под которыми они указаны.

- 1) мировоззрение человека заключается в осознании себя через своё отношение к отдельным предметам и людям
- 2) ранней формой мировоззрения являлось мифологическое мировоззрение
- 3) компонентами мировоззрения являются нормы и ценности
- 4) философское мировоззрение основано на вере в существование сверхъестественного
- 5) обыденное мировоззрение формируется стихийно, в процессе житейского опыта.

5. Установите соответствие между характеристиками и типами культуры, которые они иллюстрируют: к каждой позиции, данной в первом столбце, подберите соответствующую позицию из второго столбца.

ХАРАКТЕРИСТИКА	ТИП КУЛЬТУРЫ
А) основной круг потребителей — высокообразованная часть общества.	1) массовая
Б) понятна и доступна всем слоям населения независимо от уровня образования.	2) элитарная
В) включает в себя авангардные направления искусства.	3) народная
Г) произведения создаются анонимными творцами, не имеющими профессиональной подготовки.	
Д) приоритет развлекательных жанров в духовной деятельности.	

Запишите в ответ цифры, расположив их в порядке, соответствующем буквам:

А	Б	В	Г	Д

6. В стране Z проводится ряд реформ. Какие факты свидетельствуют о том, что реформы направлены на укрепление института брака и семьи, материнства и детства? Запишите цифры, под которыми они указаны.

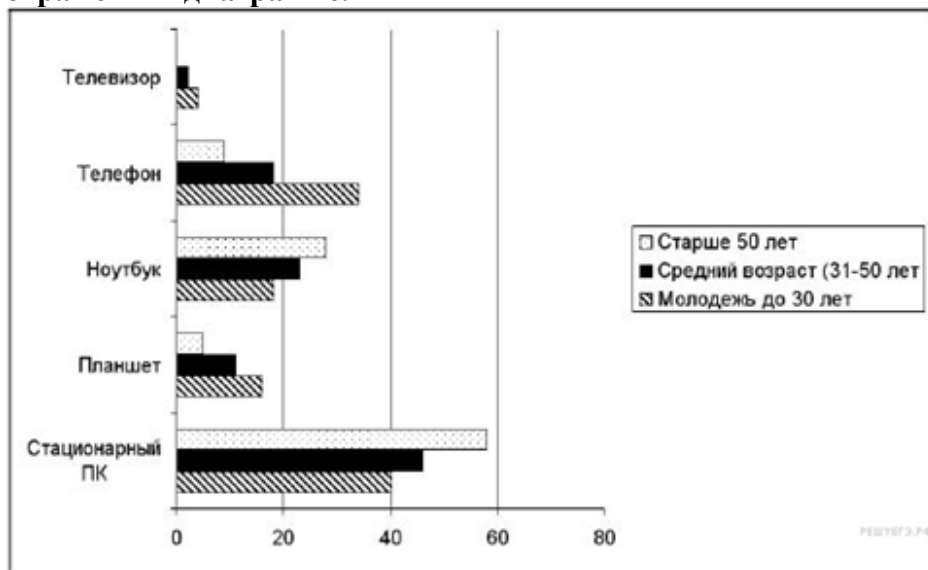
- 1) увеличен размер пособия по безработице
- 2) увеличен пенсионный возраст

- 3) установлена величина прожиточного минимума
- 4) при парламенте создан комитет по делам семьи, женщин и детей
- 5) увеличена материальная поддержка женщин, находящихся в отпуске по уходу за детьми
- 6) учреждены новые формы жизнеустройства детей-сирот

7. Выберите верные суждения о предпринимательской деятельности и запишите цифры, под которыми они указаны.

- 1) целью предпринимательской деятельности является получение прибыли
- 2) в Российской Федерации не допускается осуществление предпринимательской деятельности без регистрации
- 3) предпринимательская деятельность может осуществляться только юридическими лицами
- 4) предпринимательская деятельность может осуществляться как с использованием наёмного труда, так и без его использования
- 5) предпринимательская деятельность играет большую роль как при рыночной, так и при плановой экономике

8. В стране Z был проведён социологический опрос среди различных возрастных групп на тему: «Каким устройством Вы пользуетесь чаще всего для выхода в интернет?» Его результаты отражены в диаграмме.



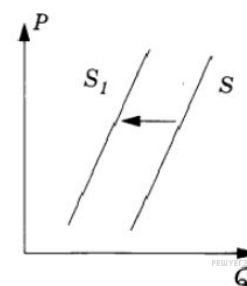
Найдите в приведённом списке выводы, которые можно сделать на основе диаграммы, и запишите цифры, под которыми они указаны.

- 1) стационарный ПК является самым популярным устройством для выхода в интернет среди всех возрастных групп
- 2) молодёжь использует телевизор для выхода в интернет примерно так же часто, как люди старшей возрастной группы — планшет
- 3) телефон является вторым по популярности средством выхода в интернет для всех возрастных групп
- 4) популярность телефона как средства выхода в интернет возрастает с увеличением возраста пользователей
- 5) во всех возрастных категориях ноутбук используется для выхода в интернет чаще, чем планшет

9. Директор фирмы принял решение об открытии новой линии производства. Какие пункты из приведённого списка могут свидетельствовать о том, что речь идёт об интенсивном экономическом росте фирмы? Запишите цифры, под которыми они указаны.

- 1) применение ресурсосберегающих технологий
- 2) рост объёмов потребляемого сырья
- 3) открытие нескольких сборочных линий
- 4) переобучение сотрудников
- 5) внедрение в производство научных разработок
- 6) увеличение штата рабочих

10. На рисунке отражена ситуация на рынке банковского кредитования: линия предложения S переместилась в новое положение S_1 (P — цена товара, Q — количество товара). Какие из перечисленных факторов могут вызвать такое изменение? Запишите цифры, под которыми они указаны.



- 1) улучшение материального положения населения
- 2) ослабление государственного контроля за деятельностью коммерческих банков
- 3) введение законодательных ограничений на максимальные процентные ставки по кредитам
- 4) отзыв Центральным банком страны лицензий у ряда крупных банков

5) снижение темпов инфляции

11. Выберите верные суждения о социальных конфликтах и запишите цифры, под которыми они указаны.

- 1) социальные конфликты складываются только в экономической сфере общества
- 2) социальный конфликт предполагает противостояние сторон
- 3) конфликтную ситуацию может спровоцировать незначительный повод.
- 4) сторонами социального конфликта могут быть большие социальные группы
- 5) причина социального конфликта связана с интересами противостоящих сторон

12. Выберите верные суждения о моральных нормах и запишите цифры, под которыми они указаны.

- 1) моральные нормы, в отличие от правовых социальных норм, всегда предъявляются в письменном виде
- 2) моральные нормы обеспечиваются общественным мнением
- 3) моральные нормы передаются из поколения в поколение
- 4) моральные нормы способствуют социализации подрастающего поколения
- 5) моральные нормы вырабатываются и предъявляются государством

13. Выберите верные суждения о политической системе общества и запишите цифры, под которыми они указаны.

- 1) политическая система общества определяет возможности социально-политической деятельности граждан и организаций
- 2) в состав политической системы общества могут входить общественные организации
- 3) политическая система осуществляет регулирование политического процесса
- 4) политологи различают мажоритарные и пропорциональные политические системы
- 5) социальные нормы (правовые, политические, нравственные и т.п.) относятся к институциональной (организационной) подсистеме политической системы

14. В секторе производства легковых автомобилей выросла номинальная заработная плата. Что из приведённого в списке могло вызвать её повышение? Запишите номера правильных ответов.

- 1) законодательное увеличение минимального размера оплаты труда
- 2) увеличение спроса на легковые автомобили и рост их продаж
- 3) увеличение предложения на рынке труда работников автомобильной промышленности
- 4) закрытие в стране нескольких предприятий по производству автомобилей
- 5) повышение Центральным банком ключевой ставки
- 6) рост инфляции

15. Страна Z — унитарное государство. Какие признаки позволят сделать вывод, что в стране Z существует демократический политический режим? Запишите цифры, под которыми они указаны.

- 1) всенародно избираемый президент является главой государства
- 2) административно-территориальные единицы не наделены политической самостоятельностью
- 3) президент формирует правительство
- 4) в стране Z разрешено всё, что не запрещено законом
- 5) в стране легально действует политическая оппозиция
- 6) права и свободы граждан реализуются в повседневной жизни

16. Согласно Конституции РФ, наша страна является светским государством. Выберите в приведённом ниже списке черты, характеризующие светское государство, и запишите цифры, под которыми они указаны.

- 1) создание условий, обеспечивающих достойную жизнь граждан РФ
- 2) многообразие политических идеологий и партий
- 3) отсутствие государственной или обязательной религии
- 4) обеспечение государственной поддержки семьи
- 5) гарантия свободы совести

17. Выберите верные суждения о системе российского права и запишите цифры, под которыми они указаны.

- 1) отрасли материального права, в отличие от отраслей процессуального права, устанавливают порядок применения правовых норм
- 2) уголовное право регулирует общественные отношения, связанные с совершением преступных деяний, назначением наказания и применением иных мер уголовно-правового характера
- 3) административное право регулирует имущественные и связанные с ними личные неимущественные отношения
- 4) гражданское право относят к частному праву
- 5) правовой институт — совокупность норм, регулирующих определённый сегмент (сторону) однородных общественных отношений.

18. Выберите верные суждения о социальном статусе и запишите цифры, под которыми они указаны.

- 1) в современном обществе социальный статус многих людей многократно меняется
- 2) социальный статус выступает динамическим выражением социальной роли
- 3) отдельные статусные позиции люди получают при рождении
- 4) одним из важных критериев социального статуса человека в современном обществе выступает уровень образования
- 5) социологи различают устойчивый и переменный статусы

19. Дееспособный совершеннолетний гражданин иностранного государства, постоянно проживающий на территории РФ, решил вступить в российское гражданство. Какие требования предъявляются к желающим вступить в российское гражданство в общем порядке? Запишите цифры, под которыми они указаны.

- 1) наличие собственности на территории РФ
- 2) наличие законного источника средств к существованию
- 3) наличие высшего профессионального образования
- 4) зарегистрированный на территории РФ брак
- 5) владение русским языком
- 6) обязательство соблюдать Конституцию и законы РФ

20. Выберите одно из предложенных ниже высказываний, раскройте его смысл в форме мини-сочинения, обозначив при

необходимости разные аспекты поставленной автором проблемы (затронутой темы).

1. «Семья — это та первичная среда, где человек должен учиться творить добро» (В.М. Сухомлинский).
2. «Если бы законы могли говорить вслух, они бы первым делом пожаловались на законников» (Д. Галифакс).
3. «Когда справедливость исчезает, то не остается ничего, что могло бы придать ценность жизни людей» (Иммануил Кант).

ОТВЕТЫ

1	2	3	4	5	6	7	8	9
Санкция	Массовая культура	4	235	2 1 2 3 1	456	124	125	145

10	11	12	13	14	15	16	17	18	19
34	2345	234	123	126	456	35	245	134	256

20. Пояснение.

При изложении своих мыслей по поводу поднятой проблемы (обозначенной темы), при аргументации своей точки зрения используйте знания, полученные при изучении курса обществознания, соответствующие понятия, а также факты общественной жизни и собственный жизненный опыт. В качестве фактической аргументации следует привести не менее двух примеров из различных источников.